

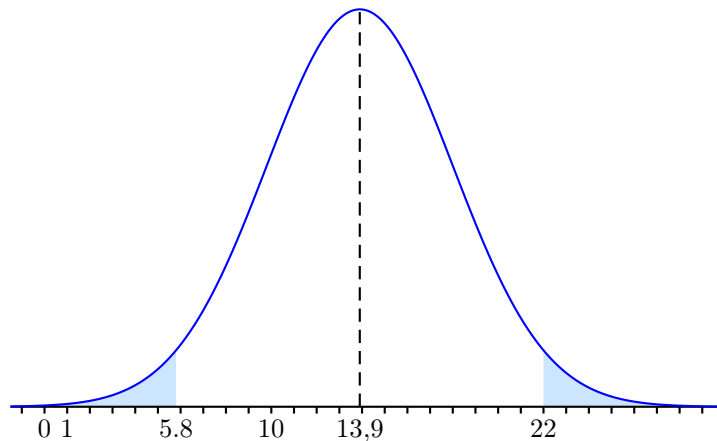
Pondichéry. 2016. Enseignement spécifique. Corrigé

EXERCICE 1

Partie A

1) a) Le symétrique x du réel 22 par rapport au réel 13,9 vérifie $\frac{x+22}{2} = 13,9$ et donc $x = 2 \times 13,9 - 22 = 5,8$.

Graphique.



b) $P(5,8 \leq T \leq 22) = 1 - P(T \leq 5,8) - P(T \geq 22) = 1 - 2 \times 0,023 = 0,954$.

Soit $Z = \frac{T - 13,9}{\sigma}$. Z suit la loi normale centrée réduite.

$P(T \leq 5,8) = 0,023$. De plus, $T \leq 5,8 \Leftrightarrow T - 13,9 \leq -8,1 \Leftrightarrow \frac{T - 13,9}{\sigma} \leq -\frac{8,1}{\sigma}$ et donc

$$P\left(Z \leq -\frac{8,1}{\sigma}\right) = 0,023.$$

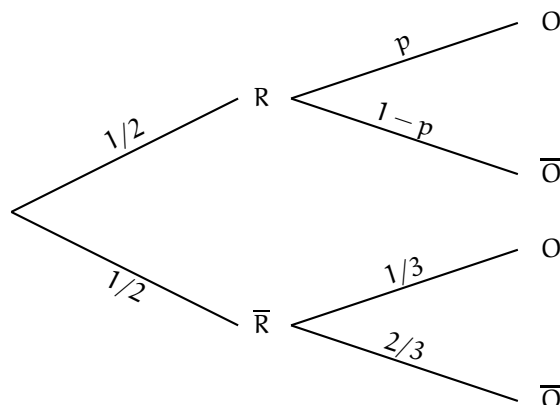
La calculatrice fournit $-\frac{8,1}{\sigma} = -1,995\dots$ et donc $\sigma = 4,1$ au dixième près.

2) La probabilité demandée est $P(T \geq 18)$. La calculatrice fournit

$$P(T \geq 18) = 0,16 \text{ arrondi au centième.}$$

Partie B

1) Représentons la situation par un arbre de probabilités.



D'après la formule des probabilités totales,

$$P(O) = P(R) \times P_{\mathbf{R}}(O) + P(\bar{\mathbf{R}}) \times P_{\bar{\mathbf{R}}}(O) = \frac{1}{2} \times p + \frac{1}{2} \times \frac{1}{3} = \frac{1}{2}p + \frac{1}{6}.$$

2) a) Ici, $n = 1500$. D'autre part, la fréquence de « oui » observée est $f = \frac{625}{1500} = \frac{5}{12}$. On note que $n \geq 30$, $nf = 625$ et donc $nf \geq 5$ et enfin $n(1 - f) = 875$ et donc $n(1 - f) \geq 5$.

Un intervalle de confiance de la proportion q au niveau de confiance 95% est

$$\left[f - \frac{1}{\sqrt{n}}, f + \frac{1}{\sqrt{n}} \right] = \left[\frac{5}{12} - \frac{1}{\sqrt{1500}}, \frac{5}{12} + \frac{1}{\sqrt{1500}} \right] = [0,39; 0,45]$$

en arrondissant de manière à élargir un peu l'intervalle.

$$\text{b) } \frac{5}{12} - \frac{1}{\sqrt{1500}} \leq \frac{1}{2}p + \frac{1}{6} \leq \frac{5}{12} + \frac{1}{\sqrt{1500}} \Leftrightarrow \frac{1}{4} - \frac{1}{\sqrt{1500}} \leq \frac{1}{2}p \leq \frac{1}{4} + \frac{1}{\sqrt{1500}} \Leftrightarrow \frac{1}{2} - \frac{2}{\sqrt{1500}} \leq p \leq \frac{1}{2} + \frac{2}{\sqrt{1500}}.$$

Un intervalle de confiance de la proportion p au niveau de confiance 95% est

$$\left[\frac{1}{2} - \frac{2}{\sqrt{1500}}, \frac{1}{2} + \frac{2}{\sqrt{1500}} \right] = [0,44; 0,56]$$

en arrondissant de manière à élargir un peu l'intervalle.

Au niveau de confiance 95%, on peut affirmer que $0,44 \leq p \leq 0,56$.

EXERCICE 2

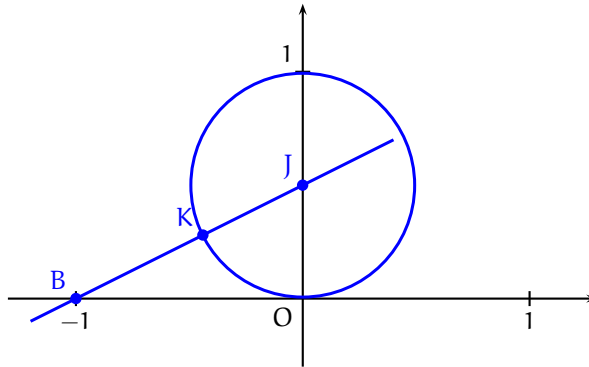
1) Le point J a pour coordonnées $\left(0, \frac{1}{2}\right)$. D'après le théorème de PYTHAGORE,

$$BJ^2 = BO^2 + OJ^2 = 1^2 + \left(\frac{1}{2}\right)^2 = \frac{5}{4}$$

puis $BJ = \frac{\sqrt{5}}{2}$ et donc

$$BK = BJ - KJ = \frac{\sqrt{5}}{2} - \frac{1}{2} = \frac{\sqrt{5}-1}{2}.$$

$$BK = \frac{\sqrt{5}-1}{2}.$$



2) a) Puisque A_2 est sur le cercle trigonométrique, $|z_{A_2}| = OA_2 = 1$. D'autre part,

$$\arg(z_{A_2}) = (\vec{u}, \overrightarrow{OA_2}) = (\vec{u}, \overrightarrow{OA_1}) + (\overrightarrow{OA_1}, \overrightarrow{OA_2}) = \frac{4\pi}{5} [2\pi].$$

Donc,

$$z_{A_2} = e^{\frac{4i\pi}{5}}.$$

b) Le point A_2 a pour coordonnées $\left(\cos\left(\frac{4\pi}{5}\right), \sin\left(\frac{4\pi}{5}\right)\right)$, le point B a pour coordonnées $(-1, 0)$. Donc,

$$\begin{aligned} BA_2^2 &= (x_{A_2} - x_B)^2 + (y_{A_2} - y_B)^2 = \left(\cos\left(\frac{4\pi}{5}\right) + 1\right)^2 + \left(\sin\left(\frac{4\pi}{5}\right)\right)^2 \\ &= \cos^2\left(\frac{4\pi}{5}\right) + 2\cos\left(\frac{4\pi}{5}\right) + 1 + \sin^2\left(\frac{4\pi}{5}\right) = 2 + 2\cos\left(\frac{4\pi}{5}\right). \end{aligned}$$

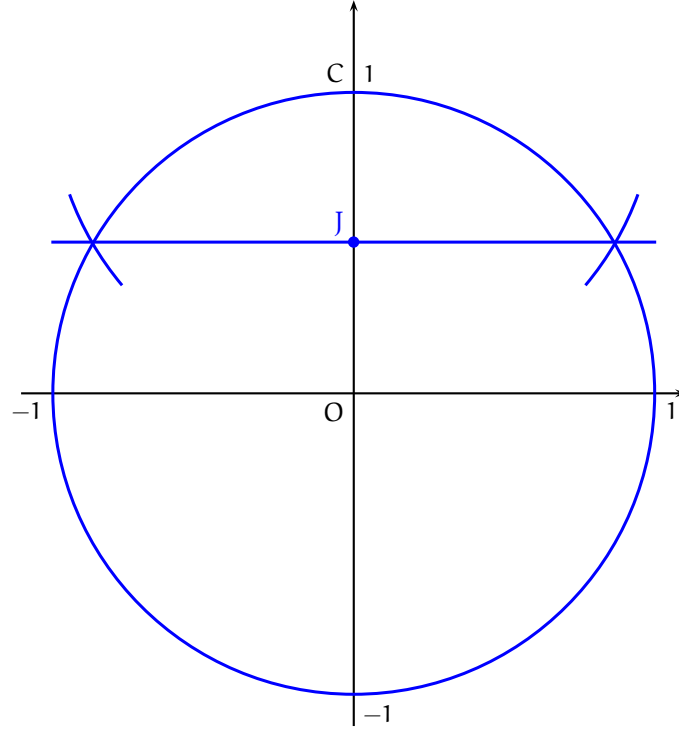
$$BA_2^2 = 2 + 2\cos\left(\frac{4\pi}{5}\right).$$

c) Donc, $BA_2^2 = 2 + 2\frac{-\sqrt{5}-1}{4} = 2 + \frac{-\sqrt{5}-1}{2} = \frac{3-\sqrt{5}}{2}$ puis

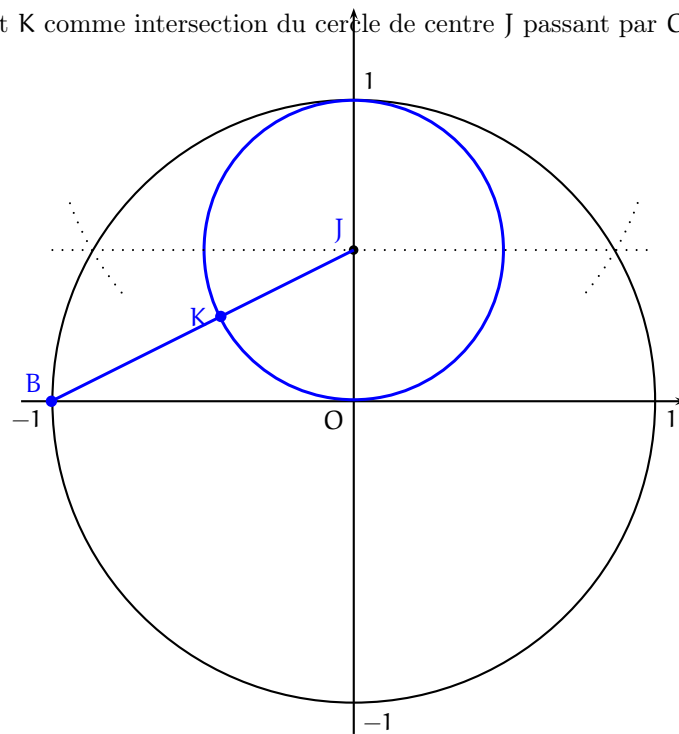
$$BA_2 = \sqrt{\frac{3-\sqrt{5}}{2}} = \frac{\sqrt{5}-1}{2} = BK.$$

$$BA_2 = BK.$$

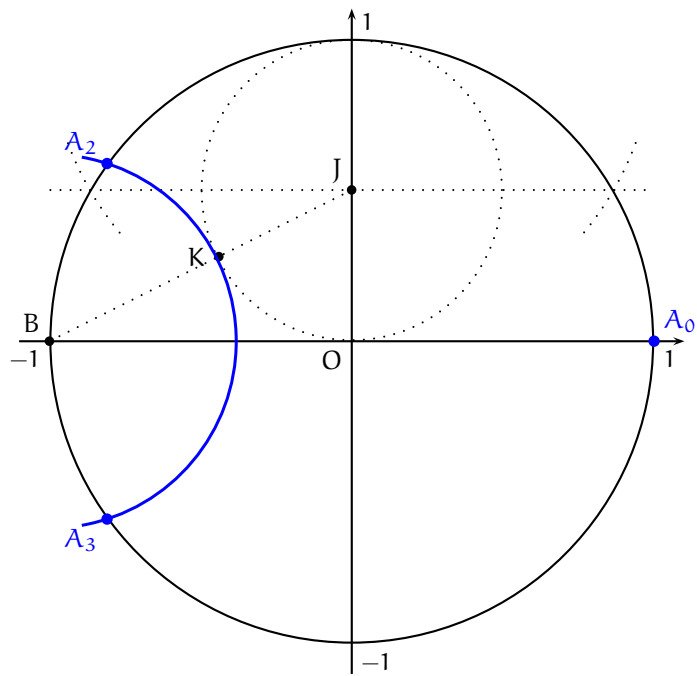
3) On commence par construire le cercle de centre O et de rayon 1 puis le point J milieu du segment [OC] où C est le point de coordonnées (0, 1) en construisant à la règle non graduée et au compas la médiatrice du segment [OC].



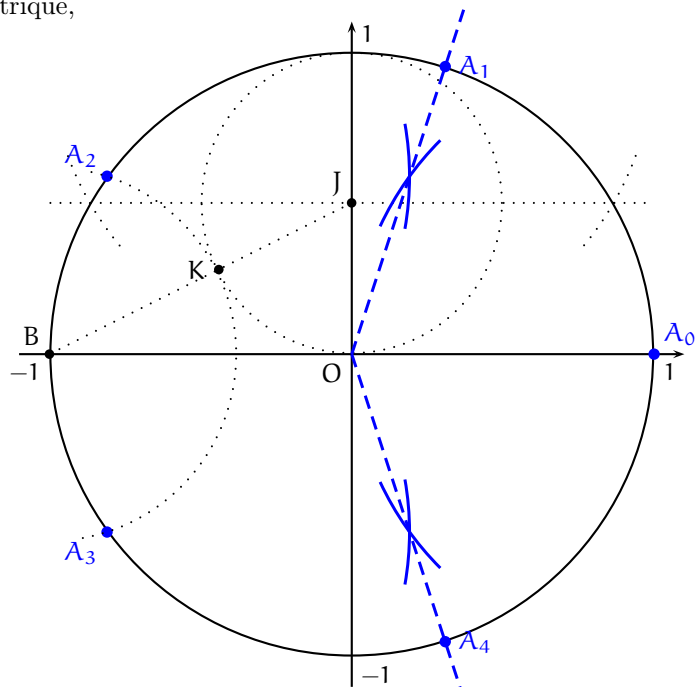
On construit ensuite le point K comme intersection du cercle de centre J passant par O et du segment [BJ].



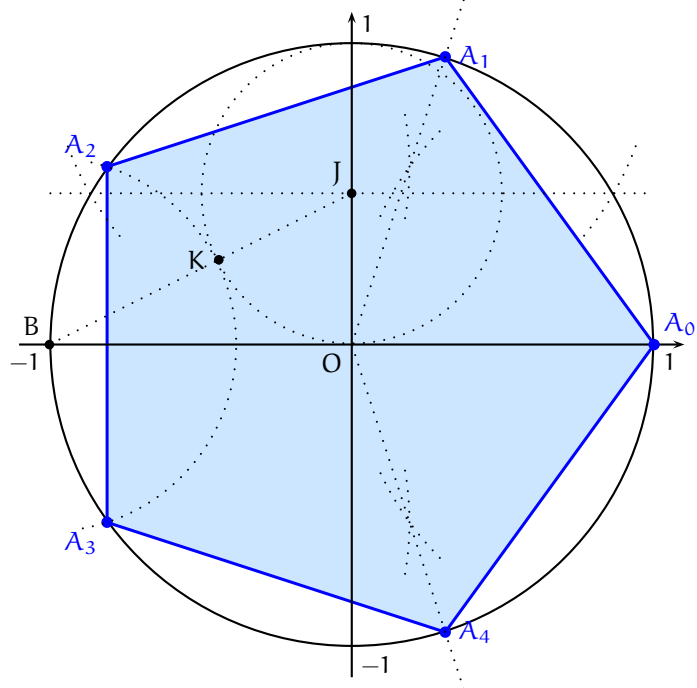
Les points A_2 et A_3 sont les points d'intersection du cercle trigonométrique et du cercle de centre B et de rayon BK.



Les points A_1 et A_4 sont les points d'intersection des bissectrices intérieures des angles $\widehat{A_0 O A_2}$ et $\widehat{A_0 O A_3}$ respectivement et du cercle trigonométrique,



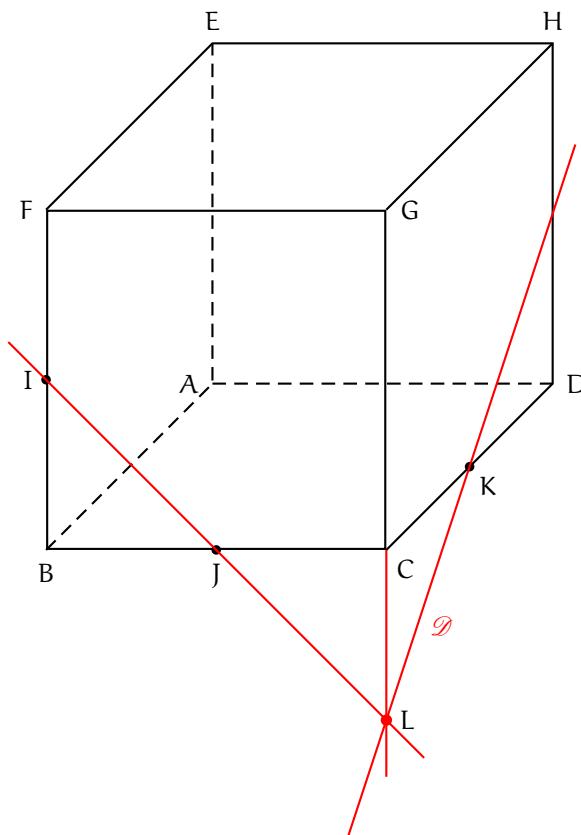
et on obtient



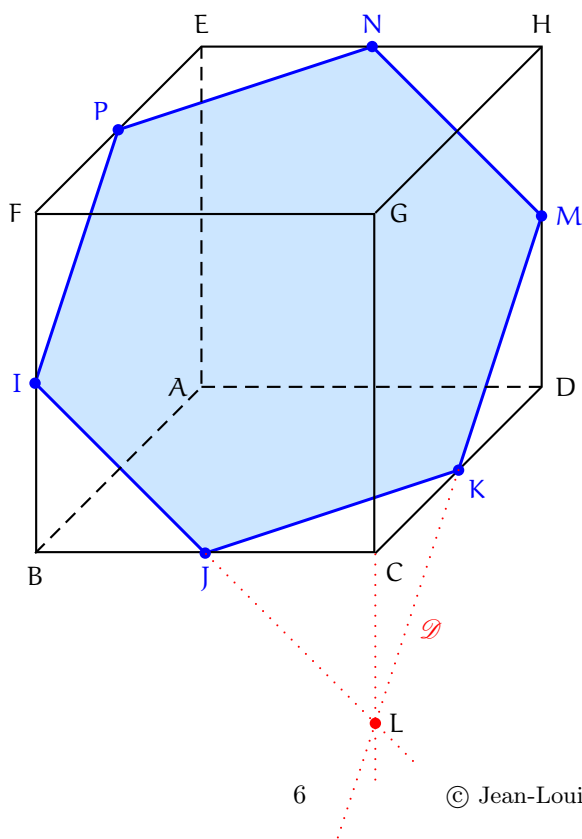
EXERCICE 3

Partie A

Les plans (IJK) et (CDH) sont sécants en une droite \mathcal{D} . K et L sont deux points distincts appartenant aux plans (IJK) et (CDH). Donc, $\mathcal{D} = (KL)$.



La droite \mathcal{D} coupe la droite (HD) en un point M. Puisque les plans (BCG) et (ADE) sont parallèles, l'intersection des plans (IJK) et (ADE) est la parallèle à la droite (IJ) passant par M. Cette droite coupe la droite (EH) en un point N et l'intersection du plan (IJK) et du plan (ADE) est la droite (MN). On trace enfin la parallèle à la droite (JK) passant par N. Cette droite coupe la droite (EF) en un point P et on peut achever le tracé de la section du cube par le plan (IJK).



Partie B

1) Le point A a pour coordonnées $(0, 0, 0)$ et, puisque $\overrightarrow{OG} = \overrightarrow{AB} + \overrightarrow{AD} + \overrightarrow{AE}$, le point G a pour coordonnées $(1, 1, 1)$. Les points B et F ont pour coordonnées respectives $(1, 0, 0)$ et $(1, 0, 1)$ et donc le point I a pour coordonnées $\left(1, 0, \frac{1}{2}\right)$. Les points B et C ont pour coordonnées respectives $(1, 0, 0)$ et $(1, 1, 0)$ et donc le point J a pour coordonnées $\left(1, \frac{1}{2}, 0\right)$. Les points C et D ont pour coordonnées respectives $(1, 1, 0)$ et $(0, 1, 0)$ et donc le point K a pour coordonnées $\left(\frac{1}{2}, 1, 0\right)$.

2) a) Les coordonnées respectives des vecteurs \overrightarrow{IJ} et \overrightarrow{IK} sont $\left(0, \frac{1}{2}, -\frac{1}{2}\right)$ et $\left(-\frac{1}{2}, 1, -\frac{1}{2}\right)$.

Ces deux vecteurs ne sont pas colinéaires (en analysant leur première coordonnée) et donc les points I, J et K définissent effectivement un plan de manière unique.

Les coordonnées du vecteur \overrightarrow{AG} sont $(1, 1, 1)$.

$$\overrightarrow{AG} \cdot \overrightarrow{IJ} = 1 \times 0 + 1 \times \frac{1}{2} + 1 \times \left(-\frac{1}{2}\right) = \frac{1}{2} - \frac{1}{2} = 0$$

et

$$\overrightarrow{AG} \cdot \overrightarrow{IK} = 1 \times \left(-\frac{1}{2}\right) + 1 \times 1 + 1 \times \left(-\frac{1}{2}\right) = -\frac{1}{2} + 1 - \frac{1}{2} = 0.$$

Le vecteur \overrightarrow{AG} est orthogonal aux vecteurs \overrightarrow{IJ} et \overrightarrow{IK} qui sont deux vecteurs non colinéaires du plan (IJK). Donc, le vecteur \overrightarrow{AG} est un vecteur normal au plan (IJK).

b) Le plan (IJK) est le plan passant par I $\left(1, 0, \frac{1}{2}\right)$ et de vecteur normal $\overrightarrow{AG}(1, 1, 1)$. Une équation cartésienne de ce plan est

$$1 \times (x - 1) + 1 \times (y - 0) + 1 \times \left(z - \frac{1}{2}\right) = 0$$

ou encore

$$\text{le plan (IJK) a pour équation } x + y + z = \frac{3}{2}.$$

3) a) Soient $t \in [0, 1]$ puis M le point tel que $\overrightarrow{AM} = t\overrightarrow{AG}$. Le point M a pour coordonnées (t, t, t) puis

$$MI^2 = (1 - t)^2 + (0 - t)^2 + \left(\frac{1}{2} - t\right)^2 = 1 - 2t + t^2 + t^2 + \frac{1}{4} - t + t^2 = 3t^2 - 3t + \frac{5}{4}.$$

b) Pour $t \in [0, 1]$, posons $f(t) = MI^2 = 3t^2 - 3t + \frac{5}{4}$. Pour $t \in [0, 1]$, $f'(t) = 6t - 3$. Donc, f est décroissante sur $\left[0, \frac{1}{2}\right]$ et croissante sur $\left[\frac{1}{2}, 1\right]$. Par suite, $f(t)$ est minimal pour $t = \frac{1}{2}$.

Quand $t = \frac{1}{2}$, le point M est le point N de coordonnées $\left(\frac{1}{2}, \frac{1}{2}, \frac{1}{2}\right)$. Puisque IM est minimale si et seulement si IM^2 est minimale, la distance IM est minimale pour le point N $\left(\frac{1}{2}, \frac{1}{2}, \frac{1}{2}\right)$.

4) a) $x_N + y_N + z_N = \frac{1}{2} + \frac{1}{2} + \frac{1}{2} = \frac{3}{2}$. Donc le point N appartient au plan (IJK).

b) Les coordonnées respectives de vecteurs \overrightarrow{AG} , \overrightarrow{IN} et \overrightarrow{BF} sont $(1, 1, 1)$, $\left(-\frac{1}{2}, \frac{1}{2}, 0\right)$ et $(0, 0, 1)$

$$\overrightarrow{AG} \cdot \overrightarrow{IN} = 1 \times \left(-\frac{1}{2}\right) + 1 \times \frac{1}{2} + 1 \times 0 = -\frac{1}{2} + \frac{1}{2} = 0$$

et

$$\overrightarrow{BF} \cdot \overrightarrow{IN} = 0 \times \left(-\frac{1}{2}\right) + 0 \times \frac{1}{2} + 1 \times 0 = 0.$$

Donc, la droite (IN) est orthogonale aux droites (AG) et (BF). De plus, les droites (AG) et (IN) sont sécantes en N et les droites (BF) et (IN) sont sécantes en I. Donc, la droite (IN) est perpendiculaire aux droites (AG) et (BF).

EXERCICE 4.

Soit $x \in]0, 14]$ l'abscisse du point M. L'aire, exprimée en unités d'aire, du rectangle OPMQ est égale à

$$\mathcal{A}(x) = OP \times OQ = x_P y_Q = x_M y_M = 2x - x \ln \left(\frac{x}{2} \right).$$

• $\mathcal{A}(1) = 2 - \ln \left(\frac{1}{2} \right) = 2 + \ln 2 = 2,693\dots$ et $\mathcal{A}(2) = 4 - \ln(1) = 4$. Puisque $\mathcal{A}(1) \neq \mathcal{A}(2)$, la fonction \mathcal{A} n'est pas constante sur $]0, 14]$ ou encore l'aire du rectangle OPMQ n'est pas constante quand le point M varie.

• La fonction \mathcal{A} est dérivable sur $]0, 14]$ et pour $x \in]0, 14]$,

$$\mathcal{A}'(x) = 2 - \ln \left(\frac{x}{2} \right) - x \times \frac{1/2}{x/2} = 2 - \ln \left(\frac{x}{2} \right) - 1 = 1 - \ln \left(\frac{x}{2} \right).$$

Ensuite,

$$\begin{aligned} \mathcal{A}'(x) \geq 0 &\Leftrightarrow 1 - \ln \left(\frac{x}{2} \right) \geq 0 \Leftrightarrow -\ln \left(\frac{x}{2} \right) \geq -1 \Leftrightarrow \ln \left(\frac{x}{2} \right) \leq 1 \\ &\Leftrightarrow \frac{x}{2} \leq e^1 \text{ (par stricte croissance de la fonction exponentielle sur } \mathbb{R} \text{)} \\ &\Leftrightarrow x \leq 2e \end{aligned}$$

avec $2e = 5,4\dots$ et donc $2e \in]0, 14]$. Par suite, la fonction \mathcal{A} est croissante sur $]0, 2e]$ et décroissante sur $[2e, 14]$. La fonction \mathcal{A} admet un maximum en $2e$ et ce maximum est égal à

$$\mathcal{A}(2e) = 4e - 2e \ln \left(\frac{2e}{2} \right) = 4e - 2e \times 1 = 2e.$$

Dans ce cas, l'abscisse de M est $2e$ et l'ordonnée de M est $f(2e) = 2 - \ln \left(\frac{2e}{2} \right) = 1$. Les coordonnées de M tel que l'aire du rectangle OPMQ soit maximale, sont $(2e, 1)$.

EXERCICE 5.

Partie A : modélisation discrète

1) La suite $(T_n)_{n \in \mathbb{N}}$ est définie par

$$T_0 = 25 \text{ et } \forall n \in \mathbb{N}, T_{n+1} = 0,85T_n + 15.$$

La température, exprimée en degrés Celsius, de la boîte de conserve au bout de 3 minutes est T_3 .

- $T_1 = 0,85T_0 + 15 = 0,85 \times 25 + 15 = 36,25^\circ$
- $T_2 = 0,85T_1 + 15 = 0,85 \times 36,25 + 15 = 45,8125^\circ$
- $T_3 = 0,85T_2 + 15 = 0,85 \times 45,8125 + 15 = 53,940625^\circ$

La température de la boîte de conserve au bout de 3 minutes est de 54° arrondie à l'unité.

2) Montrons par récurrence que pour tout $n \in \mathbb{N}$, $T_n = 100 - 75 \times (0,85)^n$.

- $100 - 75 \times (0,85)^0 = 100 - 75 = 25 = T_0$. Donc, l'égalité est vraie quand $n = 0$.
- Soit $n \geq 0$. Supposons que $T_n = 100 - 75 \times (0,85)^n$.

$$\begin{aligned} T_{n+1} &= 0,85T_n + 15 \\ &= 0,85(100 - 75 \times (0,85)^n) + 15 \text{ (par hypothèse de récurrence)} \\ &= 85 - 75 \times (0,85)^{n+1} + 15 \\ &= 100 - 75 \times (0,85)^{n+1}. \end{aligned}$$

On a montré par récurrence que

pour tout $n \in \mathbb{N}$, $T_n = 100 - 75 \times (0,85)^n$.

3) Soit n un entier naturel.

$$\begin{aligned} T_n \geq 85 &\Leftrightarrow 100 - 75 \times (0,85)^n \geq 85 \Leftrightarrow -75 \times (0,85)^n \geq -15 \\ &\Leftrightarrow 75 \times (0,85)^n \leq 15 \Leftrightarrow (0,85)^n \leq \frac{15}{75} \Leftrightarrow (0,85)^n \leq 0,2 \\ &\Leftrightarrow \ln((0,85)^n) \leq \ln(0,2) \text{ (par stricte croissance de la fonction } \ln \text{ sur }]0, +\infty[) \\ &\Leftrightarrow n \ln(0,85) \leq \ln(0,2) \\ &\Leftrightarrow n \geq \frac{\ln(0,2)}{\ln(0,85)} \text{ (car } \ln(0,85) < 0) \\ &\Leftrightarrow n \geq 9,9\dots \\ &\Leftrightarrow n \geq 10 \text{ (car } n \text{ est un entier)}. \end{aligned}$$

La stérilisation débute au bout de 10 minutes.

Partie B

1) a) La fonction f est dérivable sur $[0, +\infty[$ et pour $t \geq 0$,

$$f'(t) = 0 - 75 \left(-\frac{\ln 5}{10} \right) e^{-\frac{\ln 5}{10}t} = 7,5 \ln(5) e^{-\frac{\ln 5}{10}t}.$$

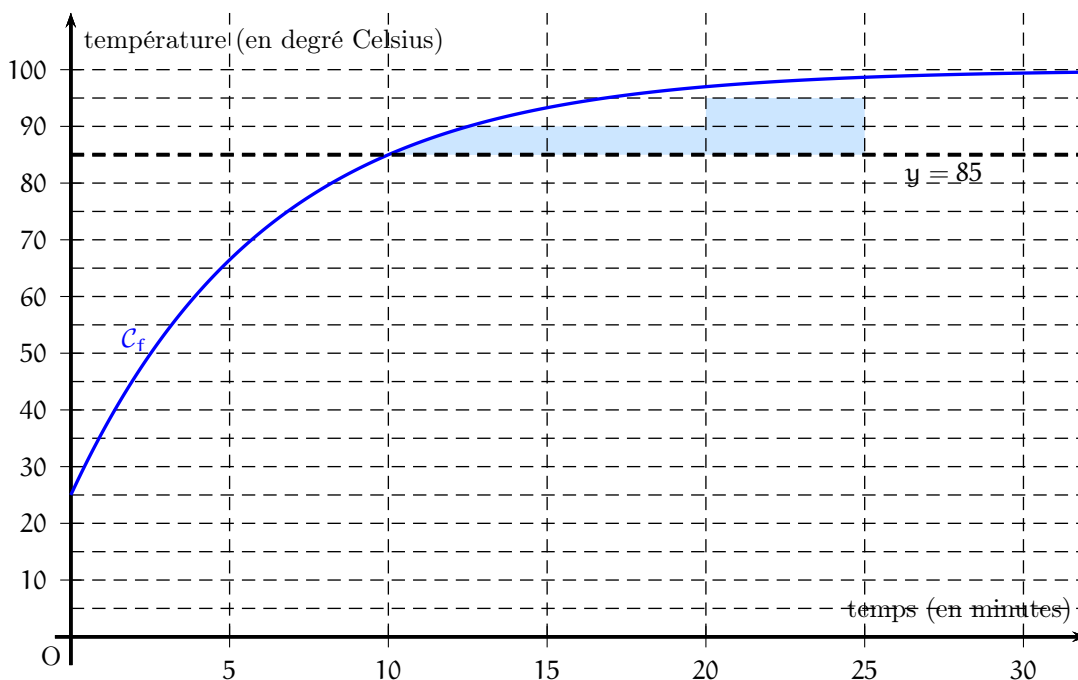
Puisque $5 > 1$, $\ln 5 > 0$. Puisque la fonction exponentielle est strictement positive sur \mathbb{R} , la fonction f' est strictement positive sur $[0, +\infty[$. On en déduit que

La fonction f est strictement croissante sur $[0, +\infty[$.

b) $f(10) = 100 - 75e^{-\frac{\ln 5}{10} \times 10} = 100 - 75e^{-\ln 5} = 100 - 75 \frac{1}{e^{\ln 5}} = 100 - \frac{75}{5} = 100 - 15 = 85.$

Puisque la fonction f est croissante sur $[0, +\infty[$, si $t \geq 10$, alors $f(t) \geq f(10)$ ou encore $f(t) \geq 85$.

2) a) L'aire, exprimée en unités d'aire, d'un rectangle en pointillé est égale à 5×5 ou encore 25. 3 rectangles ont déjà une aire égale à 75 unités d'aire. L'aire du domaine en bleu est donc clairement strictement supérieure à 80 et il en est de même de $\mathcal{A}(25)$.



b) Soit $\theta \geq 10$. Pour $t \in [10, \theta]$, $f(t) \geq 85$. Donc,

$$\begin{aligned} \mathcal{A}(\theta) &= \int_{10}^{\theta} (f(t) - 85) dt = \int_{10}^{\theta} \left(15 - 75e^{-\frac{\ln 5}{10}t}\right) dt \\ &= 15 \int_{10}^{\theta} 1 dt - 75 \int_{10}^{\theta} e^{-\frac{\ln 5}{10}t} dt \quad (\text{par linéarité de l'intégrale}) \\ &= 15(\theta - 10) - 75 \int_{10}^{\theta} e^{-\frac{\ln 5}{10}t} dt. \end{aligned}$$

c) Par suite,

$$\begin{aligned} \mathcal{A}(20) &= 15(20 - 10) - 75 \int_{10}^{20} e^{-\frac{\ln 5}{10}t} dt = 150 - 75 \left[\frac{e^{-\frac{\ln 5}{10}t}}{-\frac{\ln 5}{10}} \right]_{10}^{20} = 150 - 75 \frac{e^{-2 \ln 5} - e^{-\ln 5}}{-\frac{\ln 5}{10}} \\ &= 150 + \frac{750}{\ln 5} \left(\left(\frac{1}{e^{\ln 5}} \right)^2 - \frac{1}{e^{\ln 5}} \right) = 150 + \frac{750}{\ln 5} \left(\frac{1}{25} - \frac{1}{5} \right) = 150 + \frac{750}{\ln 5} \left(-\frac{4}{25} \right) \\ &= 150 - \frac{120}{\ln 5} = 75,4\dots \end{aligned}$$

$\mathcal{A}(20) < 80$ et donc la stérilisation n'est pas terminée au bout de 20 minutes.